

(لكل سؤال خمس درجات)

أولا : الجغرافيا

السؤال الأول ( أ ) أمامك خريطة لقارة افريقيا حدد عليها الاتي :

١- جبال

٢- اقليم مناخي

٣- المحيط

٤- هضبة

(ب) بم تفسر : ١- سهولة انشاء الموانئ في اوروبا .

٢- ازدهام منطقة البحيرات العظمى الامريكية بالسكان .

٣- عدم وجود سلالات بشرية نقية الا في المناطق البدائية .

السؤال الثاني ( أ ) أختار الاجابة الصحيحة من بين الاقواس :

١- تقع جبال الانديز في قارة ( آسيا - افريقيا - امريكا الجنوبية )

٢- اقل قارات العالم في معدلات المواليد ( اوروبا - آسيا - امريكا الشمالية )

٣- يفصل استراليا عن جزيرة اندونيسيا بحر ( البلطي - ارافورا - اليابان )

(ب) ما النتائج المترتبة على : ١- اقتراب حافات الجبال والهضاب من سواحل افريقيا .

٢- زيادة عدد السكان في معظم دول آسيا .

ثانيا : التاريخ

السؤال الثالث ( أ ) اكمل العبارات الاتية :

١- ارسلت بريطانيا حملة ..... لاحتلال مصر وخلع محمد على باشا عام ١٨٠٧م .

٢- اصبحت مصر ولاية عثمانية بعد موقعة ..... عام ١٥١٧م .

٣- تم تعيين ..... وزيرا للجهادية بعد عزل عثمان رفقي .

(ب) رتب الاحداث التاريخية التالية من القديم إلى الحديث :

” ثورة القاهرة الاولى - كوقعة جالديران - تصريح ٢٨ فبراير - اصدار اللائحة السعيدية ”

السؤال الرابع ( أ ) إلى من تنسب الاعمال التالية :

١- ارسل حملات إلى الاقاليم الاستوائية في افريقيا لمنع تجارة الرقيق .

٢- شكل أول وزارة برلمانية عرفت بوزارة الشعب .

٣- دعا إلى انشاء مدارس ليلية لتعليم الفقراء بالمجان .

(ب) صوب الخطأ في العبارات التالية :

١- قدم احمد عرابي مطالب الأمة للخديوي توفيق ومنها اسقاط حكومة اسماعيل صدقي .

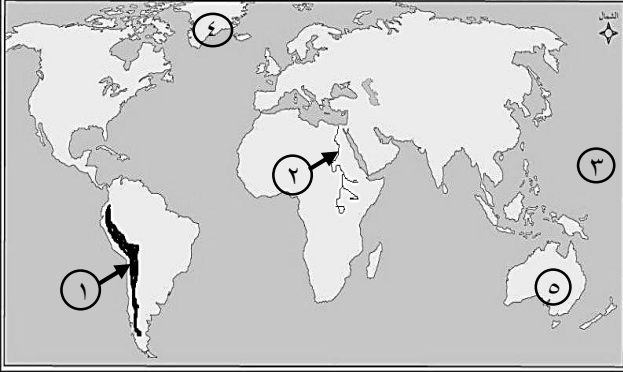
٢- قاد السيد عمر مكرم مقاومة الحملة الفرنسية في الإسكندرية .

٣- نظم محمد على الاقتصاد المصري على اساس نظام الالتزام .

٤- استقل محمد فريد حادثة دانشواي للتنديد بالاحتلال البريطاني .

## أجب عن الأسئلة الآتية

( لكل سؤال ٥ درجات )



## أولاً: الجغرافيا

السؤال الأول: (أ) أمامك خريطة صماء للعالم اكتب مدلول الأرقام التي عليها :

- ١- جبال ..... ٢- نهر .....
- ٣- المحيط ..... ٤- إقليم مناخ .....
- ٥- أعلى القارات في دخل الفرد .....

(ب) اكتب كلمة (صواب) أمام العبارة الصحيحة وكلمة (خطأ) أمام العبارة الخاطئة مع التصويب :

- ١- تعد جماعة التنجوس في سيبيريا من أقسام السلالة الزنجية . ( )
- ٢- تشبه تضاريس قارة استراليا تضاريس قارة إفريقيا . ( )

السؤال الثاني: (أ) اكتب المصطلح الجغرافي الذي تشير إليه كل عبارة مما يلي :

- ١- عدد الأفراد في سن العمل والقادرين على العمل والذين يعملون أو يبحثون عن عمل . [ ]
- ٢- هي الدول التي تتكون من جزيرة أو أكثر أو قد تكون جزءاً من جزيرة . [ ]

(ب) بم تفسر .... ؟

- ١- قلة عدد السكان في المناطق الاستوائية في إفريقيا وأمريكا الجنوبية .
- ٢- سُميت الغابات النفضية بهذا الاسم .

## ثانياً: التاريخ

السؤال الأول: (أ) اختر الإجابة الصحيحة مما بين القوسين فيما يأتي :

- ١- انتصر السلطان سليم الأول العثماني على قنصوه الغوري في معركة ..... عام ١٥١٦م  
[ الريدانية - ديو - مرج دابق - أبي قير البحرية ]
- ٢- نظم (محمد على) الاقتصاد المصري في الزراعة والصناعة والتجارة على أساس .....  
[ الالتزام - الاحتكار - المنافسة - المقايضة ]

(ب) اذكر ثلاث نتائج مترتبة على ما يأتي :

- ١- تحطم الأسطول الفرنسي في موقعة أبي قير البحرية.
- ٢- تصريح ٢٨ فبراير ١٩٢٢م.

السؤال الثاني: (أ) اكتب كلمة (صواب) أمام العبارة الصحيحة وكلمة (خطأ) أمام العبارة الخاطئة فيما يأتي :

- ١- أرسلت بريطانيا حملة فريزر على مصر عام ١٧٠٨م ( )
- ٢- أسس مصطفى كامل الحزب الوطني علم ١٩٠٧م ( )

(ب) " لم يكن خلفاء (محمد على) على شاكلته من حيث القوة والوعي في إدارة شئون البلاد "

في ضوء هذه العبارة وضح ما يلي :

- ١- ثلاثة من عوامل الأزمة المالية في عهد خلفاء محمد على .
- ٢- مظهرين من مظاهر نهضة الزراعة في عهد الخديوى إسماعيل .

(ج) اذكر أهم مطالب الثورة العربية عام ١٨٨١م

انتهت الأسئلة مع تمنياتنا بالتوفيق والنجاح



الإدارة المركزية لمنطقة البحيرة الأزهرية  
امتحان الشهادة الإعدادية الأزهرية  
للعام الدراسي ١٤٣٩-١٤٤٠هـ / ٢٠١٨-٢٠١٩م

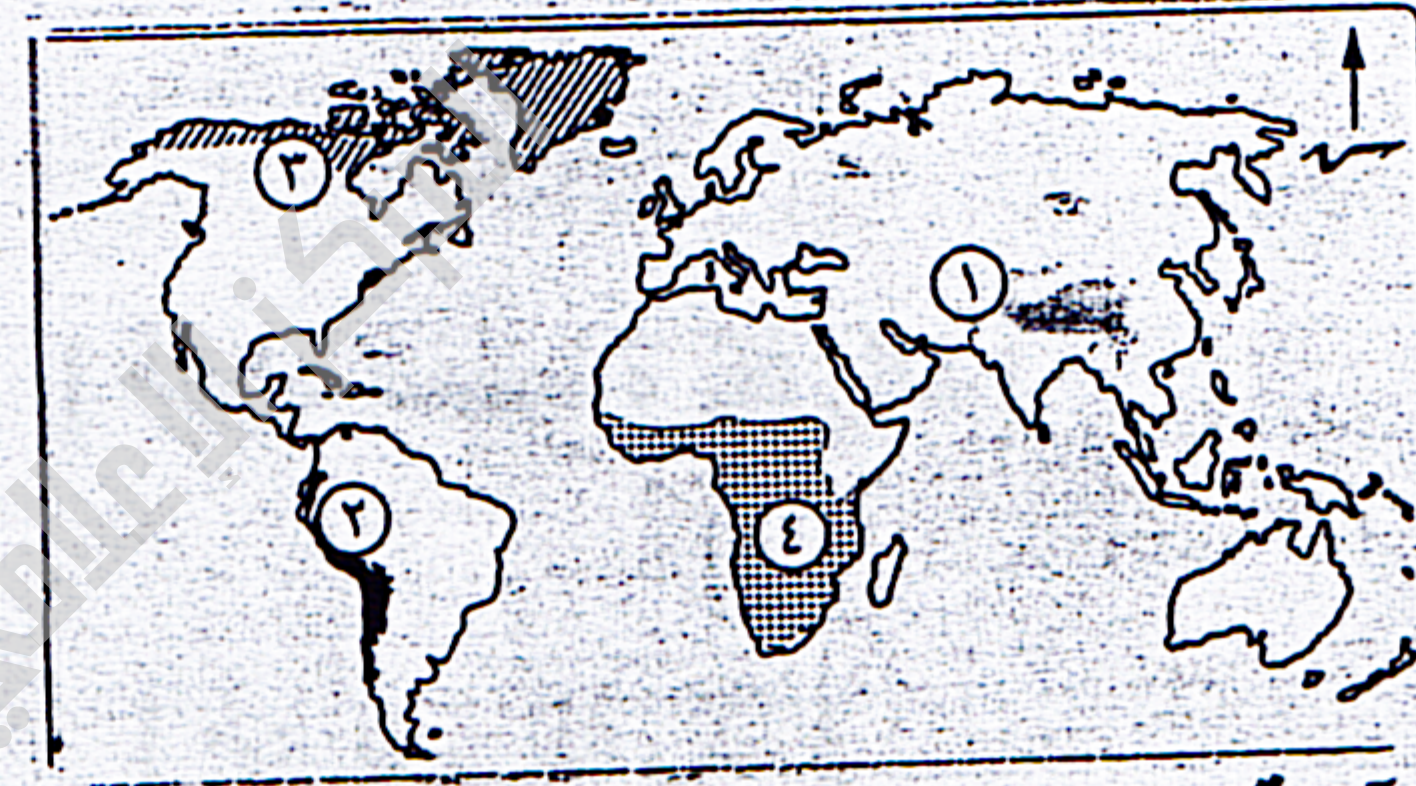
الفصل الدراسي الأول المادة : الدراسات الاجتماعية الزمن : ساعة ونصف

أجب عن الأسئلة الآتية :-

[ ٥ درجات لكل سؤال ]

أولاً : الجغرافيا

١- ٢ - أمامك خريطة صماء " للعالم " اكتب مدلول الأرقام الموقعة عليها :-



- ١- هضبة .....
- ٢- جبال .....
- ٣- إقليم مناخي .....
- ٤- السلالة .....

ب - صوّب ما تحته خط في العبارات الآتية :-

- ١- تحتل هضبة ليرادور معظم مساحة دولة أسبانيا .
- ٢- تنتمي جماعة التنجوس في سيبيريا إلى السلالة الزنجية .
- ج - ما المقصود بقوة العمل ؟
- ٢- ٢- اختر الإجابة الصحيحة مما بين القوسين فيما يأتي :-
  - ١- تمر الدائرة القطبية الشمالية بكل من قارة آسيا وأمريكا الشمالية و..... ( استراليا - أمريكا الجنوبية - أوربا ) .
  - ٢- تنفض الغابات النفضية أوراقها في فصل ..... ( الخريف - الشتاء - الصيف ) .
- ب - بم تفسر : قلة أهمية أنهار شمال آسيا شتاءً ؟
- ج - ما النتائج المترتبة على ....؟
  - ١- زيادة عدد السكان في معظم دول آسيا .
  - ٢- كثرة تعاريج سواحل قارة أوربا .

ثانياً : التاريخ

٣- ٢ - اكتب كلمة [ صح ] أمام العبارة الصحيحة وكلمة [ خطأ ] أمام العبارة الخاطئة

مع التصويب فيما يأتي :-

١- انتهى الصدام بين الدولتين الصفوية والعثمانية بهزيمة السلطان " سليم الأول " .

٢- استخدم المماليك المدافع والمعدات الحديثة في مواجهة القوات الفرنسية. [ ]

٣- بدأ إنشاء أول خط سكة حديد في مصر في عهد " عباس باشا " . [ ]

ب - رتب الأحداث الآتية من القديم إلى الحديث :-

( المذكرة المشتركة الثانية - معركة مرج دابق - معركة التل الكبير - مذبحة يافا البشرية ) .

٤- ٢ - من هو ... ؟

١- خلعه " محمد علي " من نقابة الأشراف .

٢- نظم الاقتصاد المصري على أساس الاحتكار .

٣- أنشأ دار الكتب والرصد بالعباسية .

٤- طالب بالدستور وأنشأ جريدة اللواء .

ب - دلل على صحة ما يأتي :-

١- اهتم " محمد علي " بالنقل والمواصلات .

٢- اهتم " سعيد " بأحوال الفلاحين .

ج - بم تفسر : قيام ثورة ١٩١٩م ؟



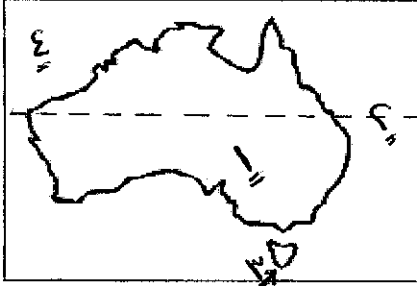
انتهت الأسئلة مع التمنيات لكم بالتوفيق والنجاح

الزمن : ساعة ونصف

الدراسات الاجتماعية

الفصل الدراسي الأول

( ٥ درجات لكل سؤال )



أجب عن الأسئلة الآتية:

أولاً : الجغرافيا : السؤال الأول:

( أ ) أمامك خريطة صماء اكتب مدلول الأرقام الموقعة عليها:

- ١- الخريطة لقارة .....
- ٢- مدار .....
- ٣- جزيرة .....
- ٤- المحيط .....

(ب) بم تفسر: (١) يتشابه كل من الإقليم المدارى مع الإقليم الموسمى في الخصائص المناخية.  
(٢) كثرة إنشاء الموانئ على سواحل أوروبا.

السؤال الثاني : ( أ ) اختر الإجابة الصحيحة مما بين القوسين :

- ١- توجد سلاسل جبال روكى في قارة .....
  - ٢- تعتبر دولة ..... من أكثر دول آسيا سكاناً
  - ٣- تنفض أشجار الغابات النفضية أوراقها في فصل .....
- ( أروبا - آسيا - أمريكا الشمالية - أفريقيا )  
( الهند - الصين - أندونيسيا - إيران )  
( الشتاء - الربيع - الصيف - الخريف )

(ب) اكتب المفهوم الذى تشير إليه كل عبارة من العبارات التالية:

- ١- سلالة بشرية تنتشر في دول شرق وجنوب شرق آسيا.
- ٢- مجموعة من السكان أعمارهم تبدأ من عمر ٦٥ سنة فأكثر.

ثانياً : التاريخ : السؤال الأول :

( أ ) ضع علامة ( ✓ ) أو علامة ( × ) أمام ما يناسبها من العبارات التالية مع تصويب الخطأ :

- ١- تدهورت الأوضاع الاقتصادية في مصر إبان الحكم العثماني. ( )
  - ٢- ظهر نظام المراقبة الثنائية في عهد الخديو إسماعيل. ( )
  - ٣- قسم محمد على مصر إلى تسع مديريات. ( )
- (ب) ما هي نتائج معاهدة ١٩٣٦ م ؟

السؤال الثاني :

( أ ) من هو :

- ١- طالب بالأزهر قام بقتل كليبر قائد الحملة الفرنسية.
- ٢- منحه سعيد باشا عقد امتياز إنشاء قناة السويس عام ١٨٥٦ م .
- ٣- زعيم وطنى قام الاحتلال البريطانى بنفيه إلى جزيرة مالطه.

(ب) أكمل العبارات التالية بكلمات مناسبة مكان النقط :

- ١- أسس مصطفى كامل ..... عام ١٩٠٧ م .
  - ٢- تولى محمد على حكم مصر عام ..... م .
  - ٣- وجهة ..... أنظار الدول الأوروبية وخاصة بريطانيا لأهمية موقع مصر الجغرافى .
- (ج) أذكر أربعة أسباب لفشل الثورة العربية .

(لكل سؤال خمس درجات)

أجب عن الأسئلة الآتية في كراسة إجابتك:

**أولاً: الجغرافيا**



**السؤال الأول :**

(أ) أمامك خريطة لقارة أمريكا الجنوبية اكتب مدلول الأرقام الموضحة عليها:

- ١- المحيط : .....
- ٢- هضبة : .....
- ٣- جبال : .....
- ٤- نهر : .....
- ٥- البحر : .....

(ب) أكمل الجمل الآتية بكلمات مناسبة:

- ١- يعد بحر ..... أكبر البحار المغلقة في العالم وتفصل جبال ..... بين آسيا وأوروبا.
- ٢- تنمو أشجار جوز الهند في الإقليم ..... كما تنمو حشائش ..... في نفس الإقليم.
- ٣- تتميز السلالة ..... بالبشرة الداكنة والأنف العريض.

**السؤال الثاني :**

(أ) ضع علامة (√) أمام العبارة الصحيحة وعلامة (X) أمام العبارة غير الصحيحة فيما يلي:

- ١- سلاسل جبال الألب توجد في قارة آسيا. ( )
- ٢- تسجل قارة استراليا أعلى معدل مواليد في العالم. ( )
- ٣- تتميز سواحل قارة أوروبا بتعرجها مما يساعد على إنشاء المواني بها. ( )

(ب) ما النتائج المترتبة على.....؟

- ١- الزيادة الكبيرة في سكان قارة آسيا.
- ٢- ارتفاع درجة الحرارة وسقوط الأمطار في حوض الأمازون طوال العام.

**ثانياً: التاريخ**

**السؤال الأول :**

(أ) رتب الأحداث التاريخية الآتية من الأقدم إلى الأحدث:

- الاحتلال البريطاني لمصر - معركة مرج دابق - اتفاقية العريش - عزل الخديوي إسماعيل - حملة فريزر على مصر
- (ب) ١- ما الأعمال التي قام بها علماء الحملة الفرنسية على مصر؟  
٢- اذكر تحفظات تصريح ٢٨ فبراير سنة ١٩٢٢م.

**السؤال الثاني : يرم تفسر .... ؟**

- ١- نفي محمد علي السيد عمر مكرم إلى مدينة دمياط..
- ٢- ثورة القاهرة الأولى سنة ١٧٩٨م.
- ٣- إرسال إنجلترا لجنة ملنر سنة ١٩١٩م.
- ٤- توجيه الخديوي إسماعيل حملات حربية إلى الإقليم الاستوائي في إفريقيا.
- ٥- إعلان السلطان العثماني منشور عصيان عرابي.



(لكل سؤال خمس درجات)

أجب عن الأسئلة الآتية: (أولا الجغرافيا)

السؤال الاول: أ- أمامك خريطة صماء لقارة أمريكا الجنوبية اكتب مدلول الأرقام التالية .

١- جبال ..... ٢- نهر ..... ٣- المحيط ..... ٤- هضبة .....

ب) بم تفسر .... ؟ ١- كثرة الموانئ الطبيعية على سواحل أوروبا .

٢- تعتبر حشائش السافانا حديقة حيوان طبيعية .

٣- يقل عدد السكان في شبه الجزيرة العربية .

ج) اختر الاجابة الصحيحة من بين القوسين :

١- تعد القارات التالية قارات العالم القديم ما عدا ..... (إفريقيا - آسيا - استراليا - أوروبا)

٢- تقع شبه جزيرة الهند الصينية في اقليم ..... (البحر المتوسط - الموسمي - المعتدل شرق القارات - الموسمي)

٣- نهر الفولجا أطول نهر في أوروبا ويصب في بحر ..... (الأسود - قزوين - الميت - المتوسط)

السؤال الثاني : أ) ما المقصود بـ : ١- الإسكيمو ٢- حوض النهر

ب) اكتب كلمة (صح) أمام العبارة الصحيحة وكلمة (خطأ) أمام العبارة الخطأ مع التصويب .

١- تقل الحرارة والأمطار في جزيرة أندونيسيا ( ) ٢- يقل السكان في عاصمة دولة المكسيك ( )

٣- تنفض الغابات المخروطية أوراقها في فصل الشتاء ( )

ج) ما النتائج المترتبة على ..... ؟

١- استخراج البترول وتصديره الى الخارج وتصنيع مشتقاته في الدول الصناعية .

٢- ارتفاع معدل المواليد وانخفاض معدل الوفيات في إفريقيا .

ثانيا : التاريخ السؤال الثالث: أ) صوب ماتحته خط :

١- تراوحت مدة بقاء السلطان في العصر العثماني من سنة الى ثلاث سنوات .

٢- تولى الخديوى توفيق الحكم بعد وفاة سعيد باشا .

٣- احتلت القوات البريطانية مدينة الإسكندرية في سبتمبر ١٨٨٢ .

٤- أعلن الرئيس الأمريكى يوش المبادئ الأربعة عشر منها حق الشعوب في تقرير مصيرها .

ب) برهن على صحة العبارات الآتية ١- تدهور التجارة الخارجية في مصر في العصر العثماني .

٢- اهتم محمد على بتمهيد وتأمين الطرق البرية والبحرية .

٣- توجيه الخديوى اسماعيل عدة حملات حربية الى الأقاليم الإستوائية في إفريقيا

السؤال الرابع: أكمل العبارات الآتية : أ) ١- تم اكتشاف حجر رشيد زمن .....

٢- تضاؤل نفوذ علماء الأزهر والقيادات الشعبية في عهد ..... ٣- اعتمد سعيد باشا على ..... وبدأت الأزمة المالية

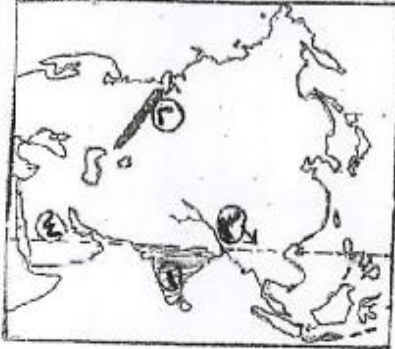
٤- قامت ثورة القاهرة الثانية في حى بولاق بزعامة .....

ب) رتب الأحداث التاريخية الآتية من الأقدم الى الأحدث مع ذكر العام المرتبط بكل حدث :

٣- موقعة نافرين

٢- حادثة قصر النيل

١- اغتيال السيرلى ستاك

أوة : الجغرافيا :السؤال الأول :

أ) أمامك خريطة صماء لقارة آسيا

اكتب مداول الأرقام التالية في كراسات إجابتك :-

- ١- هضبة .....
- ٢- جبال .....
- ٣- دائرة عرض رئيسية .....
- ٤- سلالة بشرية .....

ب) اكتب المصطلح أو المفهوم الجغرافي الدال على كل عبارة مما يأتي :

- ١- سهول فيضية تمتد في أوروبا من المحيط الأطلنطي غربا حتى جبال أورال شرقا .
- ٢- الإقليم المناخي الوحيد الذي يسود القارة القطبية الجنوبية .
- ج) ما أوجه الاختلاف بين قوة العمل في كل من الدول المتقدمة والدول النامية ؟

السؤال الثاني :

أ) دلل جغرافيا على صحة العبارات التالية :-

- ١- تعرض عدد كبير من الزوج للهجرات .
- ٢- يتشابه المناخ المعتدل البارد مع مناخ غرب أوروبا .

ب) في أي القارات توجد الظواهر التضاريسية الآتية :-

٤- سهول صحراء كلهاري

١- هضبة لبراندور      ٢- جبال الحاجز الكبير      ٣- سهول نهر السند

ج) قارن بين قارة أفريقيا و قارة أمريكا الشمالية من حيث الموقع الجغرافي .

ثانيا : التاريخ :السؤال الأول :

أ) اختر الإجابة الصحيحة مما بين القوسين في العبارات التالية :-

- ١- دخل الفرنسيون القاهرة عقب معركة ..... ( شبراخيت - إمبابة - أبي قير البحرية - أبي قير البرية )
- ٢- تضمن فرمان ١٨٤١ م ولاية "محمد علي" على ..... ( مصر - السودان - الشام - الجزيرة العربية )
- ب) بسم تفسر : ١- حملة فريزر على مصر في مارس ١٨٠٧ م .
- ٢- نجاح محمد علي في تجنيد المصريين .

ج) صوب ما تحته خط في العبارات الآتية ثم أعد كتابتها صحيحة في كراسات الإجابة :

- ١- نجح العثمانيون في دخول دمشق عاصمة الصفويين .
- ٢- تم الانتهاء من إتمام الخط الحديدي بين القاهرة والإسكندرية في عهد الخديوي توفيق .

السؤال الثاني :

أ) ما النتائج المترتبة على : ١ - حادث الإسكندرية في ١١ يونيو ١٨٨٢ م .

٢- المظاهرة الوطنية في ميدان عابدين سبتمبر ١٨٨١ م .

ب) لمن تنسب الأعمال الآتية :-

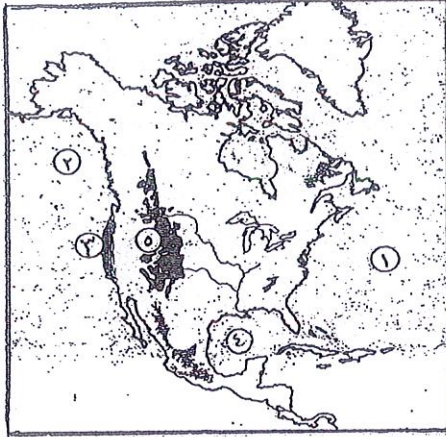
١ - تزعم حركة المقاومة ضد نابليون في عكا . ٢- تولى رئاسة الوزراء في مارس ١٩٢١ م .

ج) رتب الأحداث التاريخية التالية من الأحدث إلى الأقدم :

حادثة دنشواي - موقعة الريدانية - لجنة ملنر - افتتاح قناة السويس



## أولاً : الجغرافيا :



السؤال الأول : أ ) أمامك خريطة صماء لقارة أمريكا الشمالية،

اكتب مدلول الأرقام الموقعة عليها :

- ١- المحيط .....
- ٢- المحيط .....
- ٣- إقليم مناخي .....
- ٤- خليج .....
- ٥- جبال .....

ب ) ضع علامة (√) أمام العبارة الصحيحة ، وعلامة (×) أمام العبارة الخاطئة فيما يأتي مع تصويب الخطأ :

- ١- تتميز سواحل قارة أوروبا بالتعرج وكثرة الجزر . ( )
- ٢- تمتد جبال الهيمالايا غرب قارة آسيا . ( )

السؤال الثاني : أ ) اكتب المفهوم الذي تشير إليه كل عبارة من العبارات التالية :

- ١- سلالة تتميز بالبشرة الداكنة والأنف العريض والشعر الأجدع والشفاه الغليظة .
- ٢- الفرق بين معدلات المواليد والوفيات .

ب ) بم تفسر ؟ ٠٠٠ ؟ ١- يقل عدد السكان في المناطق الاستوائية بالقارة الأفريقية .

- ٢- تنوع الأقاليم المناخية في قارة آسيا .

## ثانياً : التاريخ :

السؤال الثالث : أ ) اختر الإجابة الصحيحة مما بين الأقواس فيما يأتي :

- ١- أنشأ دار الكتب المصرية ودار الرصد بالعباسية والجمعية الجغرافية سنة ١٨٧٥ م هو ..... ( محمد علي - إبراهيم باشا - الخديو إسماعيل - خورشيد باشا )
- ٢- تألف الوفد المصري لعرض مطالب مصر على مؤتمر الصلح في باريس برئاسة ..... ( مصطفى كامل - مصطفى النحاس - محمد فريد - سعد زغلول )

ب ) بم تفسر ضعف نظام الحكم العثماني في مصر ؟

ج ) ما النتائج التي ترتبت على حادثة قصر النيل يناير ١٨٨١ م ؟

السؤال الرابع :

أ ) ضع علامة (√) أمام العبارة الصحيحة ، وعلامة (×) أمام العبارة الخاطئة ، فيما يأتي :

- ١- أرسلت إيطاليا حملة فريزر سنة ١٨٠٧ م لاحتلال مصر وخلع محمد علي .
  - ٢- جعل سعيد باشا مدة الخدمة العسكرية سنة واحدة وإجبارية للجميع .
- ب ) ( لقد تعرضت مصر خلال تاريخها الطويل لحركات استعمارية بهدف استغلال موقعها الجغرافي ونهب خيراتها ) في ضوء العبارة السابقة ٠٠٠ أجب عما يأتي :
- ١- أسباب مجئ الحملة الفرنسية على مصر .
  - ٢- تشهد معركة التل الكبير ضد الإنجليز على بطولات مصرية خالدة ، اذكر أهمها .
- ج ) إلى من تنسب الأعمال الآتية ؟ ٠٠٠ ؟
- ١- أنشأ المطبعة الأميرية في بولاق وأصدر صحيفة الوقائع المصرية .
  - ٢- توقفت في عهده مظاهر النهضة فأغلقت معظم المدارس والمصانع .
  - ٣- استغل حادثة دنشواي سنة ١٩٠٦ م للتنديد بالاحتلال البريطاني في الخارج .





## المادة : الدراسات الاجتماعية

## الفصل الدراسي الأول

## ساعة ونصف

أولاً: ( الجغرافيا )

أجب عن الأسئلة الآتية:-

السؤال الأول: (h) أمامك خريطة صماء لقارة أمريكا الجنوبية , اكتب مدلول الأرقام التي عليها:



(1) البحر ..... (2) هضبة .....

(3) إقليم مناخي ..... (4) أكبر دول القارة سكاناً .....

(ب) اكتب ما تشير إليه كل عبارة من العبارتين الآتيتين:-

(1) إقليم مناخي تتنوع فيه الحياة النباتية طبقاً لارتفاع السطح وكمية المطر .

(2) عدد الأفراد في سن العمل والقادرين على العمل والذين يعملون فعلياً أو يبحثون عن عمل .

(ج) لم تفسر ... ؟ (1) العرب ليسوا من سلالة واحدة .

[ 5 - 20 ]

(2) تتميز السهول الساحلية بقارة أفريقيا بشكل عام بالضيق .

السؤال الثاني: (h) صوب ما فوق الخط , ثم أعد كتابة العبارات صحيحة في كراسة إجابتك:-

(1) تُسجل قارة آسيا أعلى معدل مواليد في العالم .

(3) يقل السكان في دول البرزخ مثل كندا وكوستاريكا .

(4) يتميز إقليم المناخ الاستوائي بغزارة الأمطار صيفاً بينما يسود الجفاف شتاءً .

(ب) في أي القارات توجد كل ظاهرة مما يأتي ... ؟ (1) بحر قزوين . (2) هضبة الميزيتا .

[ 4 -

(ج) ما العلاقة بين : معدل الوفيات والكوارث الطبيعية ؟

[ 20

ثانياً: ( التاريخ )

السؤال الثالث: (h) اختر الإجابة الصحيحة مما بين القوسين فيما يأتي:-

(1) كان الفلاحون في مصر أثناء الحكم العثماني ينتمون إلى الطبقة..... (الحاكمة - الوسطى - الدنيا - الأرستقراطية ) .

(2) قام ..... ( عدلي يكن باشا - مصطفى النحاس باشا - سعد زغلول باشا - زيور باشا ) بإلغاء معاهدة ( 1936 م ) .

(3) أصبحت لمصر مكانة دولية بعد حروب " محمد علي " في ..... ( بلاد الشام - السودان - الحجاز - اليونان ) .

(4) تولى ..... ( محمد فريد - أحمد عرابي - توفيق - عباس حلمي الثاني ) رئاسة الحزب الوطني بعد وفاة " مصطفى كامل " .

(ب) ما النتائج المترتبة على ... ؟ (1) إنشاء المحاكم المختلطة . (2) موقعة أبي قير البحرية ( 1798 م ) .

(ج) لي من تنسب الأعمال الآتية ... ؟

(1) تزعم ثورة القاهرة الثانية ضد الحملة الفرنسية مارس ( 1800 م ) . (2) قاد المماليك ضد العثمانيين في معركة الريدانية ( 1517م ) .

[ 6 - 20 ]

(3) صمد بقواته أمام القوات البريطانية في معركة التل الكبير حتى استشهد . (4) أنشأ دار الكتب المصرية .

السؤال الرابع: (h) اكتب كلمة ( صواب ) أمام العبارة الصحيحة و كلمة ( خطأ ) أمام العبارة غير الصحيحة فيما

يأتى مع التصويب:-

(1) أصدر السلطان العثماني فرماناً بعزل " خورشيد باشا " في يوليو ( 1805 م ) . ( )

(2) أصبح التجنيد إجبارياً في عهد " عباس باشا الأول " . ( )

(3) نجحت مظاهرة عابدين ( 9 ) سبتمبر ( 1881 م ) في عزل وزارة " البارودي " . ( )



المادة : الدراسات الاجتماعية

الفصل الدراسي الأول

ساعة ونصف

- ( أ ) اقتصرَت الصناعة في مصر أثناء الحكم العثماني على الصناعات اليدوية البسيطة .  
( ب ) ماذا كان يحدث إذا ... ؟ ( 1 ) لم يرفض الشعب المصري التفاوض مع لجنة " منتر " .  
( 2 ) لم يقوم " محمد علي " بضم السودان .

[ 5 - 20 ]

انتهت الأسئلة ،، مع تمنياتنا لكم بالتوفيق والنجاح ؛؛؛؛؛



المركز الإلكتروني للدراسات والبحوث  
الإسلامية والتعليمية بالبحرين

امتحان الشهادة الإعدادية الأزهرية للعام الدراسي ٢٠١٨ / ٢٠١٩

الفصل الدراسي الأول المادة : الدراسات الاجتماعية الزمن : ساعة ونصف  
أجب عن الأسئلة الآتية : ( لكل سؤال ٥ درجات )

أولاً : الجغرافيا

السؤال الأول :

(أ) أمامك خريطة صماء لإفريقيا اكتب المدلول الجغرافي

الذي تدل عليه الأرقام الموقعة عليها :

- ١- البحر .....  
٢- دائرة .....  
٣- مدار .....  
٤- جبال .....  
٥- مدار .....

(ب) ضع علامة (√) أمام العبارة الصحيحة وعلامة (x) أمام العبارة الخاطئة مع تصحيح الخطأ في العبارات التالية :

- ١- جبال غرب آسيا طوروس بتركيا وزاجروس في العراق وإيران ( )  
٢- نهر الراين يصب في الخليج العربي ( )

السؤال الثاني :

(أ) اكتب المفهوم الذي تشير إليه كل عبارة من العبارات التالية :

- ١- تتميز بالبشرة الداكنة والأنف العريضة والشعر الأجدد والشفافة الغليظة .  
٢- معناها أكلوا اللحوم النيئة وأول من أطلق عليهم هذا الاسم قبائل الهنود الأمريكيان .

(ب) بم تفسر :

- ١- تسمية الغابات النفضية بهذا الاسم .  
٢- يتركز معظم سكان قارة أوروبا في الغرب والوسط .

ثانياً : التاريخ

السؤال الأول :

(أ) اختر الإجابة الصحيحة من بين الأقواس في العبارات التالية :

- ١- هزيمة القوات المملوكية أمام العثمانيين عند مرج دابق عام ( ١٥١٤ - ١٥١٦ - ١٥١٧ م )  
٢- قام بحركة للإنفراد بحكم مصر ١٧٦٨م وتحالف مع ضاهر العمر جنوب الشام  
( سليم الأول - علي بك الكبير - طومان باي )

(ب) ما النتائج المترتبة على كل من :

- ١- اتفاقية العريس ١٨٠٠ م  
٢- صندوق الدين ١٨٧٦ م

السؤال الثاني :

(أ) ضع علامة (√) أمام العبارة الصحيحة وعلامة (x) أمام العبارة الخاطئة في العبارات التالية :

- ١- من أسباب الثورة العراقية التدخل الأجنبي في شئونها الداخلية وسوء أحوالها الاقتصادية ( )  
٢- كان خلفاء محمد علي على شاكلته من حيث القوة والوعي ( )

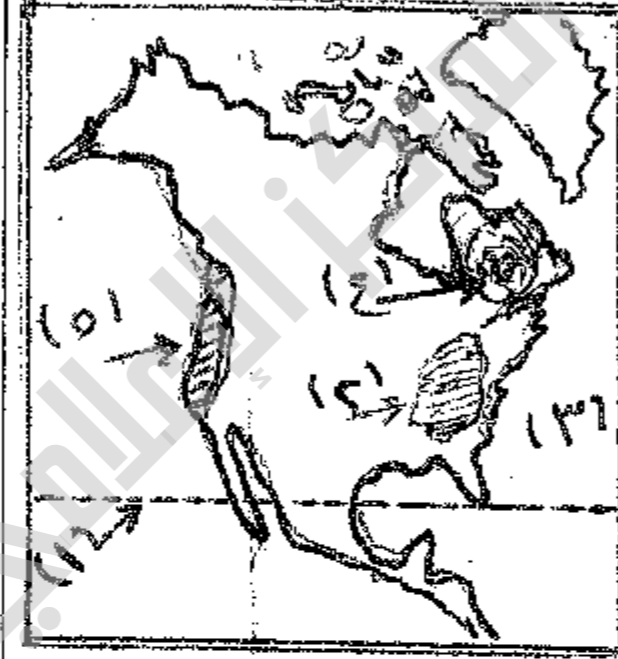
(ب) لم يستسلم الشعب المصري للاحتلال الأجنبي . في ضوء هذه العبارة وضح الآتي :

- ١- نتائج حملة فريزر ١٨٠٧م  
٢- نتائج ثورة ١٩١٩م  
(ج) اكتب ما تعرفه عن دور مصطفى كامل في كفاحه خارجياً ضد الاحتلال بمصر .

امتحان الشهادة الإعدادية الأزهرية ( فصل دراسي أول )  
للعام ١٤٣٩ - ١٤٤٠ هـ / ٢٠١٨ - ٢٠١٩ م

المادة : الدراسات الاجتماعية الزمن : ساعة ونصف

أولاً : الجغرافيا



السؤال الأول : ( ٥ - ٢٠ )

أ ( أمامك خريطة لقارة أمريكا الشمالية .  
اكتب مدلولات الأرقام على  
الخريطة في كراسة الإجابة :

- ١ - مدار .....
- ٢ - جبال .....
- ٣ - المحيط .....
- ٤ - هضبة .....
- ٥ - إقليم مناخي .....

ب ( لختار الإجابة الصحيحة مما بين القوسين فيما يلي :

- ١ - أهم الجزر التابعة لقارة استراليا ..... ( الفلبين - سومطرة - جاوة - تسمانيا )
- ٢ - يصب نهر الراين في بحر ..... ( قزوين - اليابان - الشمال - الكاريبي )
- ٣ - تنمو في إقليم غرب أوربا أشجار ..... ( الماهوجني - الزان - المطاط - البلوط )
- ٤ - يتركز سكان أمريكا الجنوبية حول سهول نهر .....  
( المسيسيبي - النيجر - الفولجا - الأورينوكو )
- ٥ - القارة التي تخلو من المناخ الاستوائي هي .....  
( آسيا - أمريكا الجنوبية - أوربا - أفريقيا )

السؤال الثاني : ( ٥ - ٢٠ )

أ ( ضع علامة ( √ ) أمام العبارة الصحيحة وعلامة ( x ) أمام العبارة الخطأ فيما يأتي :

- ١ - تعد البرازيل أكبر دول العالم من حيث عدد السكان . ( )
- ٢ - تعرف هضبة التبت بسقف العالم . ( )
- ٣ - يقع إقليم البحر المتوسط المناخي في العروض المعتدلة شرق القارات . ( )
- ٤ - تعد دولة الإمارات والأردن من الدول ذات رعاية طبية مرتفعة . ( )

ب ( في أيّ القارات توجد الظواهر الجغرافية الآتية :

- ١ - نهر السند . ٢ - هضبة جيانا . ٣ - البحيرات العظمى .
- ٤ - نهر نلسن . ٥ - نهر دار لنج . ٦ - هضبة الميزيتا .

ثانياً : التاريخ

السؤال الثالث : ( ٥ - ٢٠ )

أ ( أكمل العبارات التالية بما يناسبها تاريخياً :

- ١ - أصدر ..... اللانحة السعودية في أغسطس ١٨٥٨ م .
- ٢ - دخل الإنجليز القاهرة بعد معركة ..... عام ١٨٨٢ م .
- ٣ - عقدت فرنسا وإنجلترا الاتفاق ..... عام ١٩٠٤ م .
- ٤ - ألغى الزعيم ..... معاهدة ١٩٣٦ م .

ب ( أعد كتابة العبارات التالية بعد تصحيحها :

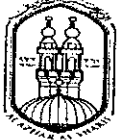
- ١ - نجحت مظاهرة عابدين بقيادة أحمد عرابي في عزل وزارة البارودي .
- ٢ - أسس الزعيم محمد فريد جريدة اللواء والحزب الوطني .
- ٣ - انتصر المماليك على الصفويين في موقعة جالديران ٢٥١٤ م .

السؤال الرابع : ( ٥ - ٢٠ )

بم تفسر ما يلي :

- ١ - ضم محمد علي باشا للسودان .
- ٢ - فشل نابليون في دخول عكا .
- ٣ - فشل الثورة العرابية .

انتهت الأسئلة .



الإدارة المركزية  
لمنطقة مطروح الأزهرية  
إدارة الامتحانات شئون الطلاب

الأزهر الشريف  
منطقة مطروح الأزهرية  
@ إدارة الامتحانات @

الورقة الثانية لمادة الدراسات الاجتماعية للشهادة الإعدادية الأزهرية لامتحانات  
الفصل الدراسي الأول للعام الدراسي ١٤٣٩ / ١٤٤٠ هـ - ٢٠١٨ / ٢٠١٩ م

ثانياً : التاريخ :

السؤال الثالث :

أ = أكمل النقاط التالية بكلمات مناسبة : -

١ = أصبح للفلاح المصري حق التوريث لأرضه الزراعية في عهد .....

٢ = تم إنشاء المطبعة الأميرية في .....

٣ = أنشئت مصلحة البريد المصرية في عهد .....

ب = لمن تنسب الأعمال التالية : -

١ = صمد بقواته أمام القوات البريطانية واستشهد في التل الكبير .

ح = ما النتائج المترتبة على ما يلي : -

١ = اكتشاف طريق رأس الرجاء الصالح .

السؤال الرابع :

أ = صوب الكلمات التي فوق الخط فيما يلي :-

١ = نظم (محمد على) الاقتصاد المصري على أسس نظام الالتزام .

٢ = وقعت مذبحه رجال الشرطة في مدينة بورسعيد عام ١٩٥٢ م .

٣ = احتلت القوات البريطانية الإسكندرية في أغسطس ١٨٨٢ م

ب = رتب الأحداث التاريخية التالية ترتيباً تصاعداً

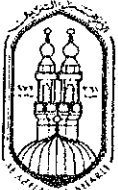
١ = اشتراك المرأة المصرية في المظاهرات .

٢ = افتتاح قناة السويس للملاحة العالمية .

٣ = الاحتلال البريطاني لمصر .

٤ = حادثة دنشواي .

=====  
انتهت الأسئلة ،،، مع التمنيات بالنجاح



الإدارة المركزية  
لمنطقة مطروح الأزهرية  
إدارة الامتحانات شئون الطلاب

( الأسئلة في وقتين )

( الورقة الأولى )

الأزهر الشريف

منطقة مطروح الأزهرية

امتحان الشهادة الإعدادية الأزهرية

@ إدارة الامتحانات @

للعام الدراسي ١٤٣٩ / ١٤٤٠ هـ - ٢٠١٨ / ٢٠١٩ م

الزمن / ساعة ونصف

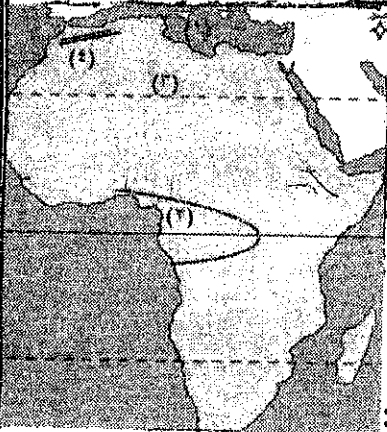
الفصل الدراسي / الأول

المادة / الدراسات الاجتماعية

( ٥ درجات لكل سؤال )

أولاً : الجغرافيا :

السؤال الأول :



أ = أمامك خريطة صماء لمصر اكتب مدلول الأرقام الموقعة عليها

١ = البحر .....

٢ = إقليم مناخي .....

٣ = مدار .....

٤ = جبال .....

ب = اختر الإجابة الصحيحة من بين الأقواس في العبارات التالية :

١ = يفصل مضيق ..... قارة أفريقيا عن أوروبا . ( باب المنذب / هرمز / جبل طارق / البسفور )

٢ = أقل قارات العالم في معدلات المواليد قارة ..... .

( آسيا / أوروبا / أمريكا الشمالية / أمريكا الجنوبية )

ج = اكتب المصطلح (المفهوم العلمي) الذي تشير إليه العبارات التالية :-

١ = دولة تتكون من جزيرة أو أكثر أو قد تكون جزءاً من جزيرة .

السؤال الثاني :

ضع علامة ( √ ) أمام العبارة الصحيحة وعلامة ( × ) أمام العبارة الخاطئة فيما يلي :-

١ = قارة أفريقيا أعلى قارات العالم في معدل المواليد . ( )

٢ = قارة أوروبا من القارات التي يوجد بها المناخ الاستوائي . ( )

٣ = يعد العرب من السلالة القوقازية . ( )

ب = بم تفسر :-

١ = إطلاق أسم ( سقف العالم ) على هضبة التبت .

٢ = تعدد أصول سكان البلاد العربية .

بقية الأسئلة بالورقة الثانية